

PRÍPRAVA NA TESTOVANIE 9

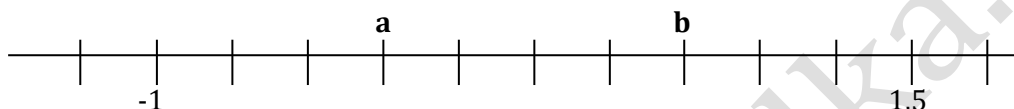
ZNÁZORNENIE NA ČÍSELNEJ OSI

1. Na číselnej osi sú vyznačené čísla 5,9 a 6,3.


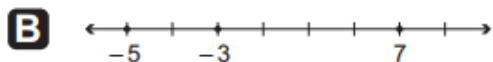
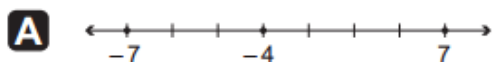


- a) Aký je súčet čísel $x + y$?
b) Aký je rozdiel čísel $x - y$?

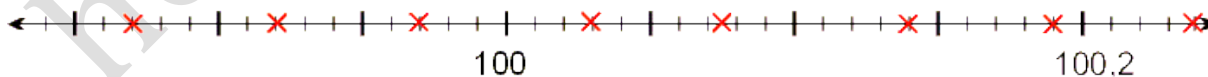
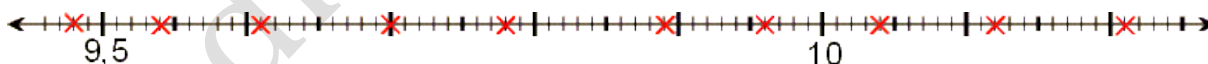
2. Na číselnej osi sú vyznačené čísla -1 a 1,5. Určte rozdiel čísel $b - a$.



3. Na každej číselnej osi sú zobrazené tri čísla. V ktorej z možností sú na číselnej osi správne zobrazené všetky tri čísla? 2011/12




4. Zapište body vyznačené na číselnej osi:

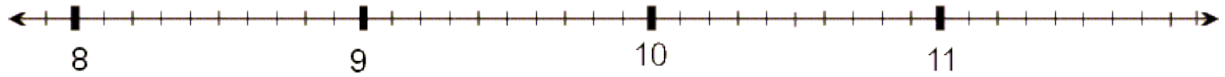


5. Vyznačte zadané čísla na číselnej sústave:

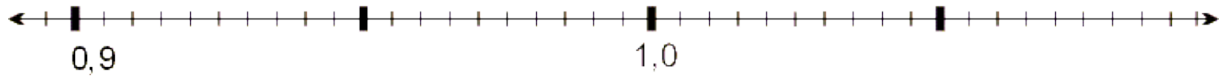
- a) 0,4; 0,7; 0,00; 0,15; 0,25; 0,55



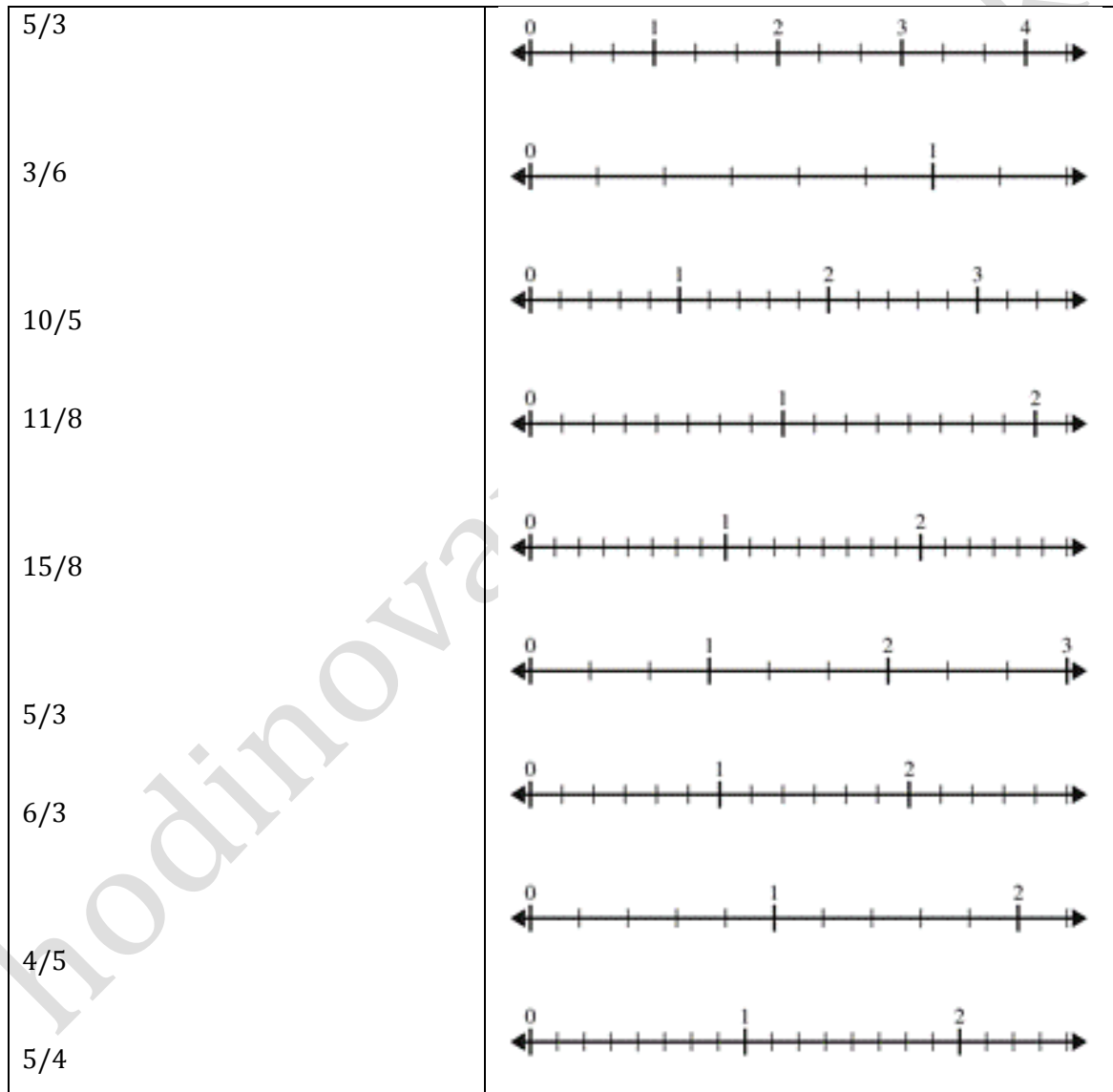
b) 8,8; 9,1; 9,4; 9,9; 10,1; 10,5; 10,8; 9,65; 10,25; 11,05



c) 0,89; 0,96; 0,915; 0,932; 0,970; 0,997; 1,02



6. Zobraz zlomky na číselnej osi:



7. Usporiadaj zlomky a zobraz ich na číselnej osi:

$1\frac{1}{4}$; $2\frac{5}{8}$; $2\frac{3}{4}$; $1\frac{3}{8}$; $2\frac{1}{8}$; $1\frac{7}{8}$; $1\frac{1}{2}$; $2\frac{7}{8}$; $2\frac{1}{2}$; $1\frac{5}{8}$; $2\frac{1}{4}$; $1\frac{1}{8}$



0904/459 555



<http://hodinovaucitelka.sk>

Viac materiálov nájdete na stránke:

hodinovaucitelka.sk

Pre Testovanie 9:

http://hodinovaucitelka.sk/materialy_testovanie9.php

hodinovaucitelka.sk



0904/459 555



<http://hodinovaucitelka.sk>